

Matsvinnsmatte: 1

Uppgift 1

a) Elin har 6 köttbullar, 3 potatisar och 10 ärtor på sin tallrik.
Rita hennes mat.

b) Hon åt upp 4 köttbullar, 2 potatisar och 5 ärtor. Kryssa över maten hon åt upp.

c) Elin slänger maten som är kvar på tallriken.
Hur mycket mat slänger hon?

Elin slänger ___ köttbullar, ___ potatis och ___ ärtor.

d) *Aron slänger* ingen köttbulle, 2 potatisar och 7 ärtor.

Hur mycket mat slänger Elin och Aron sammanlagt?

	<i>Elin</i>	<i>Aron</i>	<i>Summa</i>
Köttbullar:	___	+ <u>0</u>	= ___
Potatisar:	___	+ ___	= ___
Ärtor:	___	+ ___	= ___



Vad kan Elin och Aron göra för att inte slänga så mycket mat?




Uppgift 2


Elsa har 3 potatisar på sin tallrik. Viktor har *dubbelt* så många.

a) Rita Viktors potatisar på hans tallrik.

Elsas tallrik



Viktors tallrik




b) Hur många potatisar har de sammanlagt?

Uppgift 3


Leo har 12 ärtor på sin tallrik. Hugo har *hälften* så många.

a) Rita ärtorna på Leos och Hugos tallrikar.

Leos tallrik



Hugos tallrik



b) Hur många ärtor har de sammanlagt?



Leo har dubbelt så många ärtor som Hugo.

Stämmer det?



Uppgift 4

Så här många ärtor slängde några andra barn.
Skriv antalet i högra spalten.

Ada	● ● ● ●	
Beda	● ●	
Cissi	● ● ● ● ● ● ● ●	
David	● ● ● ● ● ● ● ● ● ● ● ●	
Erik	● ● ● ● ● ● ●	



- a) Vem slängde **flest** ärtor? _____
- b) Vem slängde **minst antal** ärtor? _____
- c) Hur många ärtor slängde Ada och Beda sammanlagt? _____
Hur räknar du ut det? $4 + 2 =$ _____
- d) Hur många ärtor slängde David och Erik sammanlagt? _____
Hur räknar du ut det? _____
- e) Vilka slängde mest, flickorna eller pojkarna? _____
- f) Vilka två barn slängde 10 ärtor sammanlagt? _____
Hur räknar du ut det? _____
- g) Vilka två barn slängde 20 ärtor sammanlagt? _____
Hur räknar du ut det? _____
- h) Hur många fler ärtor slängde David än Cissi? _____
Hur räknar du ut det? _____
- i) Hur många ärtor slängde de fem barnen sammanlagt? _____
Hur räknar du ut det? _____