

Svinnmatte: 1



1. Leos familj köper 20 kg mat varje vecka.
De slänger ungefär en fjärdedel av maten.

a) Hur många kg mat slänger de varje vecka? _____

Uträkning: _____ Svar: _____

b) Har du något förslag på hur de kan göra för att inte slänga så mycket mat?


2. Lisas familj köper 7 limpor bröd varje månad.
I genomsnitt slänger de 2 skivor från varje limpa.

a) Hur många skivor bröd slänger de totalt under en månad? _____

Uträkning: _____ Svar: _____

b) Vad kan de göra med brödet istället för att slänga det?

3. Elliots klass samlar in grönsaker som annars skulle slängas.
På måndag räddar de 2 kg, på tisdag 4 kg, på onsdag 3 kg
och på torsdag 4 kg.



a) Hur många kg grönsaker har de räddat totalt?

Uträkning: _____ Svar: _____

b) Har du något förslag på vad de kan göra med grönsakerna?

4. En liter mjölk kostar 15 kr.
En vecka höllde Sabinas klass ut 3 liter mjölk.
Hur mycket kostade mjölken som slängdes bort?

Uträkning: _____ Svar: _____

5. Några elever på Östra Karups skola orkar inte äta upp sin mat på lunchen en dag. De mäter hur mycket mat de slänger och skriver upp det i en tabell.

| Elsa | Liam | Malcolm | Amina | Harry | Charlie |
|------|------|---------|-------|-------|---------|
| 32 g | 16 g | 42 g | 8 g | 24 g | 21 g |



a) Vem slängde mest? _____


b) Vem slängde minst? _____

c) Hur mycket mat slängde de 6 eleverna sammanlagt?


Uträkning: _____

Svar: _____

6. Rita ett diagram över hur mycket mat eleverna slängde.



Tips:
Använd
linjal!



Vad kallas mat
som slängs men
som hade kunnat
ätas upp?

